


1ねん

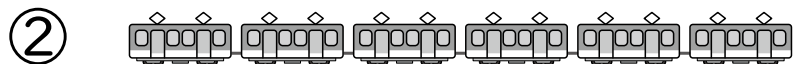
3. いくつと いくつ

く		な	
み		ま	

① いくつと いくつですか。



9は 4と



6は 3と



8は 6と



7は 2と

② あと いくつで 10に なりますか。



あと つ



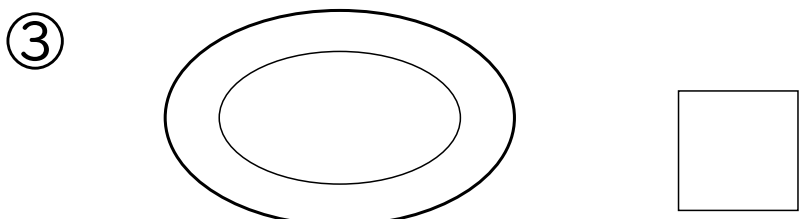

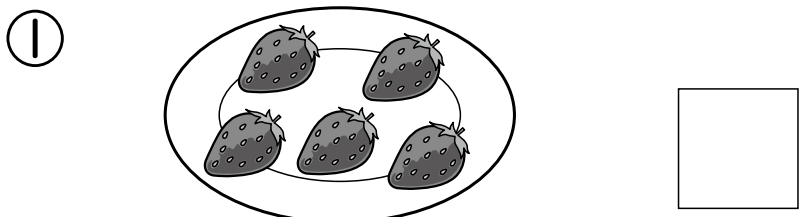
あと つ

③ で つないで

10に しましょう。



④ いちごの かずを かきましょう。



「いくつと いくつ」の がくしゅうは たのしかったですか？



「いくつと いくつ」の がくしゅうは よく わかりましたか？

