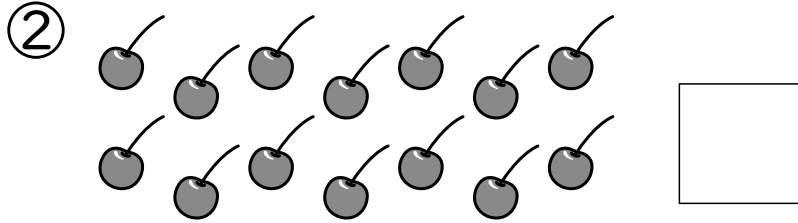



1ねん

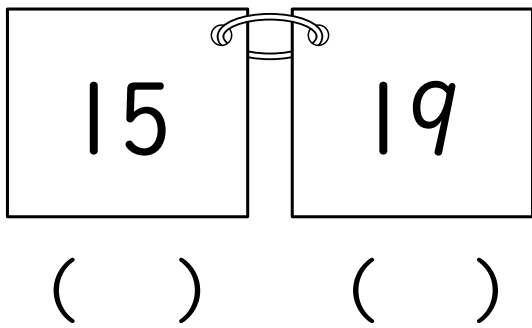
9. 10より おおきい かず

く		な	
み		ま	

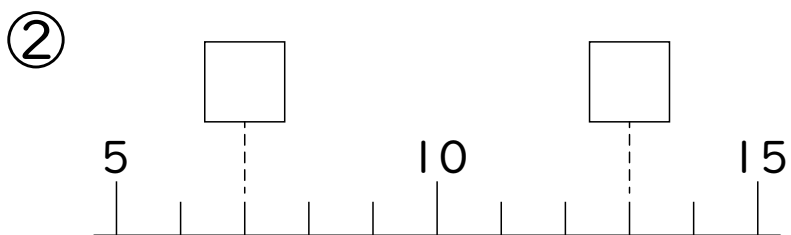
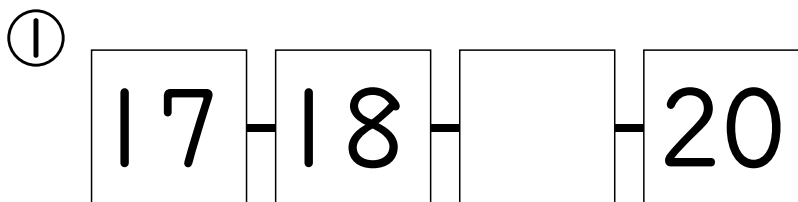
① かずを すうじで かきま
しょう。



② かずの おおきい ほうに
○を つけましょう。



③ □に かずを かきましよう。



④ けいさんを しましよう。

① $10 + 10$

② $13 + 5$

③ $17 - 7$

④ $16 - 5$

⑤ しきに かいて こたえま
しょう。

① いろがみが 13まい
あります。2まい つかう
と、なんまい のこりますか。
しき

こたえ まい

② えんぴつが 15ほん
あります。4ほん もらう
と、なんぼんに なります
か。

しき

こたえ ほん

「10より おおきい かず」の がくしゅ
うは たのしかったですか？



「10より おおきい かず」の がくしゅ
うは よく わかりましたか？