

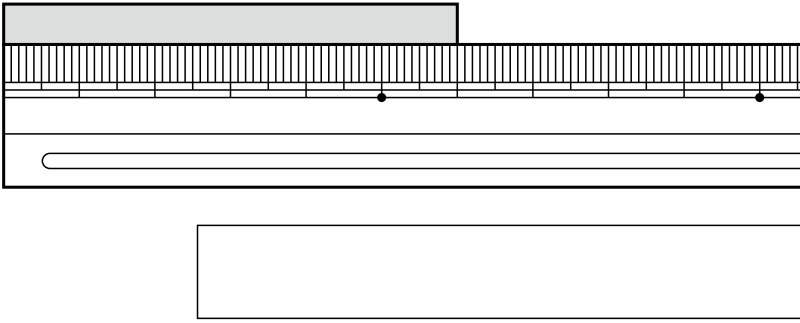
2年

## 4. 長さ

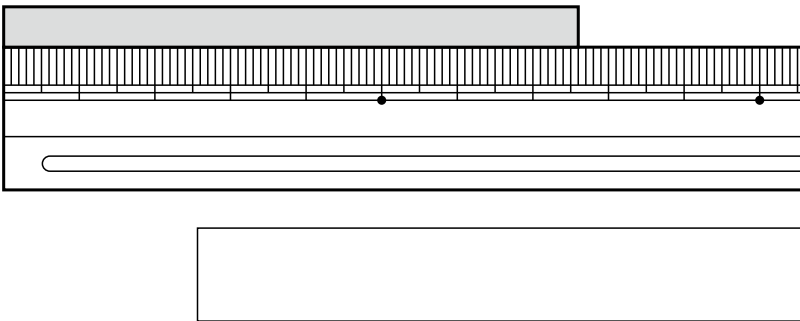
く	名
み	まえ

① テープの <sup>なが</sup>長さは どれだけですか。

①



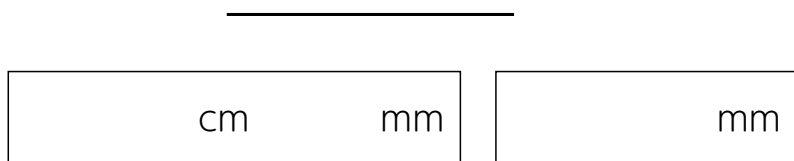
②



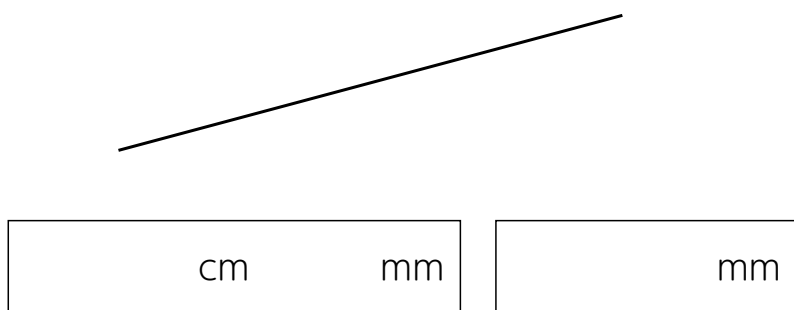
② つぎの <sup>ちよくせん</sup>直線の 長さは <sup>なん</sup>何 cm 何 mm ですか。

また、何 mm と いえますか。

①




②




③ を もとに して、つぎの 長さの 直線を かきましょう。

① 4cm



② 8cm8mm



④ つぎの <sup>けいさん</sup>計算を しましょう。

①  $2\text{cm}3\text{mm} + 4\text{mm}$ ②  $4\text{cm}6\text{mm} + 4\text{mm}$ ③  $9\text{cm}5\text{mm} - 6\text{cm}$ ④  $7\text{cm}3\text{mm} - 3\text{mm}$ 

⑤ この プrintの たての 長さは どれくらいですか。

ものさしを つかわないうで、下の ㊀~㊀の 中から えらびましょう。

㊀ 15cmくらい      ㊀ 35cmくらい

㊀ 50cmくらい      ㊀ 60cmくらい

## ( 長さ ) の 学しゅうを ふりかえって

★ この 学しゅうは たのしかったですか。

( はい    まあまあ    すこし    いいえ )

◆ この 学しゅうは よく わかりましたか。

( はい    まあまあ    すこし    いいえ )

● じゅぎょうの 中で、おもしろかった ことや わかった ことなどの かんそうを かきましょう。