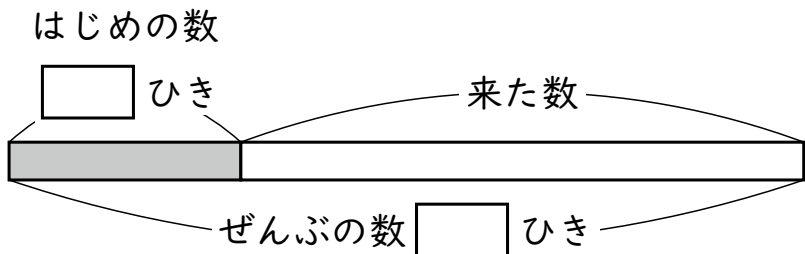


# 2年

## ＊ かくれた 数は いくつ

く		名	
み		ま	
		え	

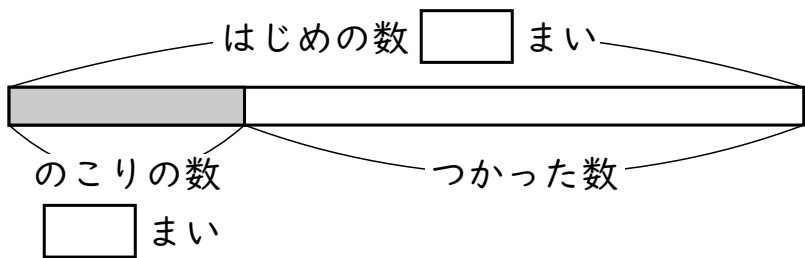
① 川に <sup>さかな</sup>魚が 7ひき およいで います。  
 そこへ <sup>なん</sup>何ひきか 来たので、ぜんぶで  
 24ひきに なりました。  
 何ひき 来ましたか。  
 図の □ に あてはまる <sup>かず</sup>数を かいて  
 考えましょう。



(しき)

(答え)  ひき

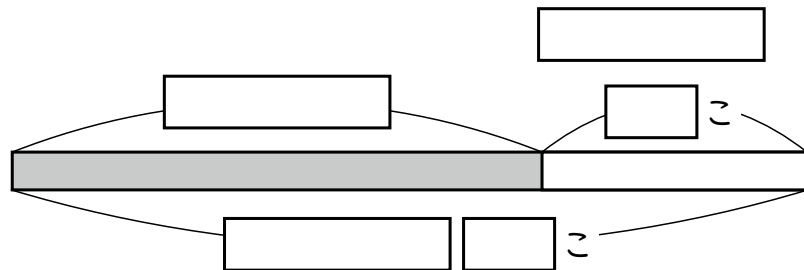
② <sup>いろがみ</sup>色紙が 27まい ありました。  
 ひこうきを おるのに 何まいか つかった  
 ので、のこりが 8まいに なりました。  
 何まい つかいましたか。  
 図の □ に あてはまる 数を かいて  
 考えましょう。



(しき)

(答え)  まい

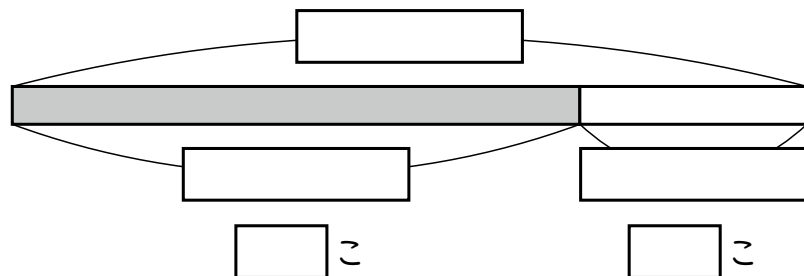
③ みかんが 何こか あります。  
 14こ もらったので、42こに なりまし  
 た。  
 はじめ 何こ ありましたか。  
 図に かいて 考えましょう。



(しき)

(答え)  こ

④ ケーキが あります。  
 きょう 6こ たべたので、のこりが  
 15こに なりました。  
 はじめ 何こ ありましたか。  
 図に かいて 考えましょう。



(しき)

(答え)  こ

### ( かくれた 数は いくつ ) の 学しゅうを ふりかえって

★ この 学しゅうは たのしかったですか。

( はい まあまあ すこし いいえ )

◆ この 学しゅうは よく わかりましたか。

( はい まあまあ すこし いいえ )

● じゅぎょうの 中で、おもしろかった ことや わかった ことなどの  
 かんそうを かきましよう。