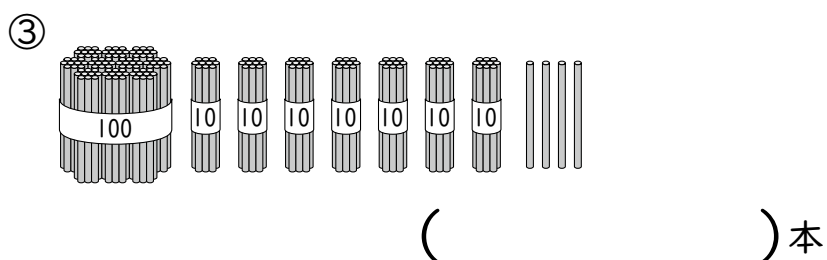
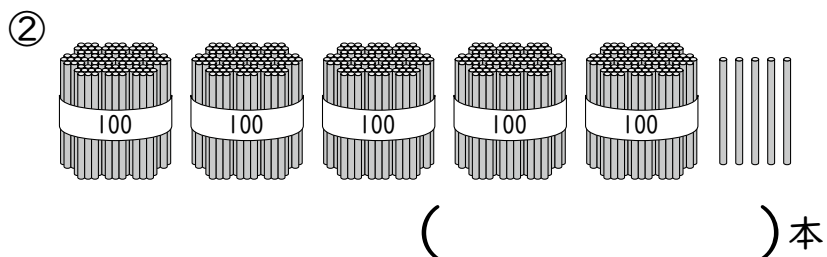
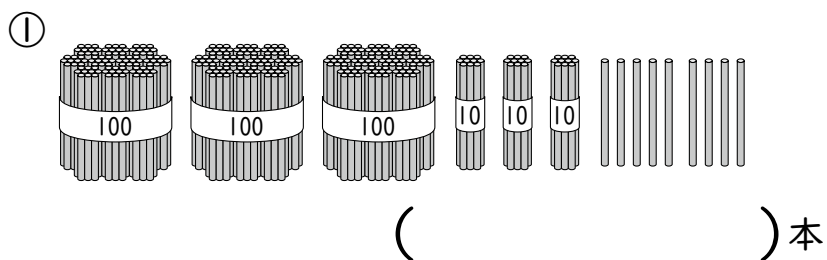


2年

6. 100をこえる数

| | |
|---|----|
| く | 名 |
| み | まえ |

① 何本なんぼん ありますか。数字ですうじ かきましょう。



② □ に あてはまる 数かず を かきましょう。

① 五百三十五を 数字で かくと □
()

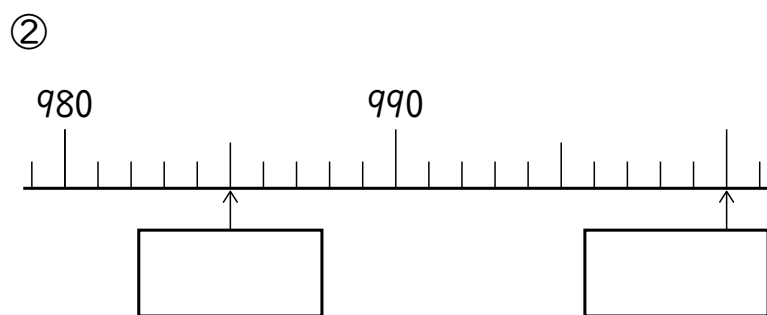
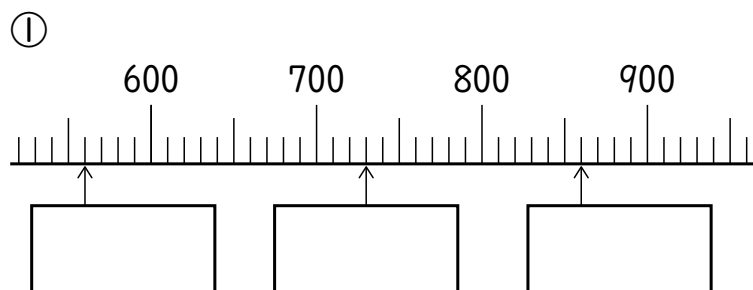
② 九百九を 数字で かくと □
()

③ 100を 6こ, 10を 7こ, 1を 8こ
あわせた 数は □
()

④ 10を 59こ あつめた 数は □
()

⑤ 900は 10を □こ あつめた 数
()

③ □ に あてはまる 数 を かきましょう。



④ 2つの 数 を くらべて, □ に >か <
を かきましょう。

① 274 □ 328

② 778 □ 765

⑤ つぎの 計算を しましょう。

① $50 + 90$

② $200 + 800$

③ $700 - 400$

④ $1000 - 600$

(100をこえる数) の 学しゅうを ふりかえって

★ この 学しゅうは たのしかったですか。

(はい まあまあ すこし いいえ)

◆ この 学しゅうは よく わかりましたか。

(はい まあまあ すこし いいえ)

● じゅぎょうの 中で, おもしろかった ことや わかった ことなどの
かんそうを かきましょう。