

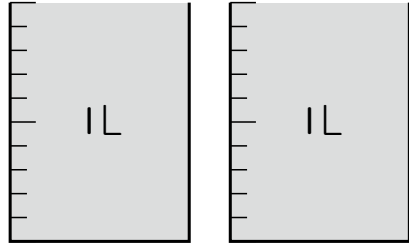
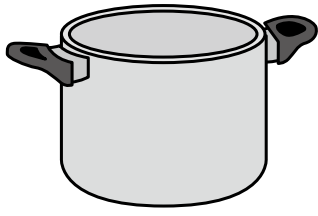
2年

## 7. か さ

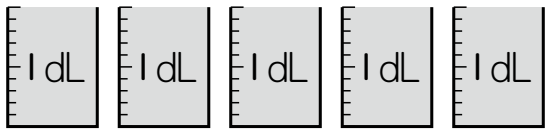

く		名	
み		まえ	

① つぎの いれものにはいる 水の かさは  
どれだけですか。

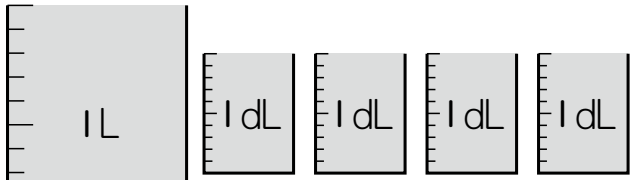
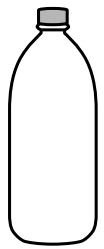
①


 L

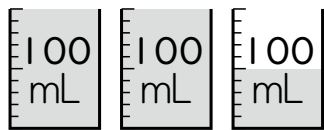
②


 dL

③


 L  dL

④


 mL

②  に あてはまる <sup>かず</sup> 数を かきましょう。

①  $1L = \text{} dL$


②  $3dL = \text{} mL$

③  $5000mL = \text{} L$

④  $3L2dL + 6dL = \text{} L \text{} dL$

⑤  $7L8dL - 3L = \text{} L \text{} dL$

③ 大きい 水とうに  
1L5dL, 小さい 水と  
うに 5dL はいって  
います。



① あわせると どれだけに なりますか。

(しき)

(答え)

② ちがいは どれだけですか。

(しき)

(答え)

## ( か さ ) の 学しゅうを ふりかえって

★ この 学しゅうは たのしかったですか。

( はい まあまあ すこし いいえ )

◆ この 学しゅうは よく わかりましたか。

( はい まあまあ すこし いいえ )

● じゅぎょうの 中で, おもしろかった ことや わかった ことなどの  
かんそうを かきましょう。