

2年

✳ ふえたり へったり

| | |
|---|----|
| く | 名 |
| み | まえ |

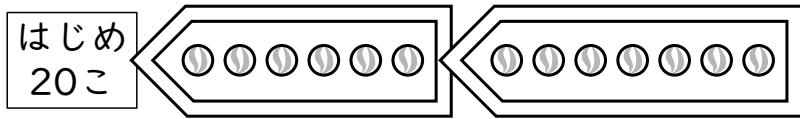
① けんじさんは ビー玉を 20こ もって
いました。

きのう ^{ねえ}お姉さんから 6こ もらいました。
きょうも 7こ もらいました。

けんじさんは いま ビー玉を ^{なん}何こ もっ
て いますか。

□に あてはまる ^{かず}数を かきましょう。

① もらった じゆんに たして もとめま
しょう。



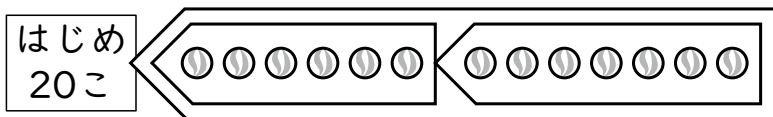
(しき)

$$20 + \square = \square$$

$$\square + 7 = \square$$

(^{こた}答え) □ こ

② 何こ ふえたかを まとめて ^{かんが}考えて も
とめましょう。



(しき)

$$6 + \square = \square$$

$$20 + \square = \square$$

(^{こた}答え) □ こ


② まとめて 考えて もとめましょう。

① すずめが 12わ
いました。

そこへ 9わ と
んで きました。

また 5わ とん
で きました。

すずめは 何わに
なりましたか。



(しき)

(^{こた}答え) □ わ

② スーパーで ^か買いものをして いる 人
が 17人 いました。

そこへ ^き11人 来ましたが、しばらくし
て 7人 ^{かえ}帰りました。

買いものをして いる 人は 何人にな
りましたか。

(しき)

(^{こた}答え) □ 人

(ふえたり へったり) の 学しゅうを ふりかえって

★ この 学しゅうは たのしかったですか。

(はい まあまあ すこし いいえ)

◆ この 学しゅうは よく わかりましたか。

(はい まあまあ すこし いいえ)

● じゆぎょうの 中で、おもしろかった ことや わかった ことなどの
かんそうを かきましょう。