


2年

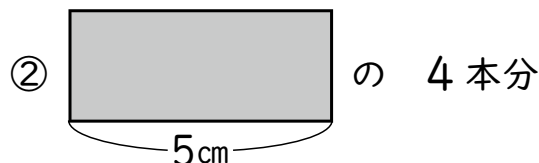
10. かけ算 (1)

く		名	
み		ま	
		え	

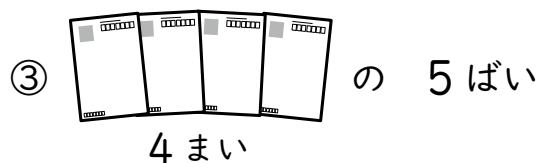
- ① かけ算の ^{さん}しきに ^{こた}かいて ^{こた}答えを ^{もとめ}みましょう。



$$\square \times \square = \square \quad \square \text{ } \text{こ}$$



$$\square \times \square = \square \quad \square \text{ } \text{cm}$$




$$\square \times \square = \square \quad \square \text{ } \text{まい}$$

- ② つぎの ^{けいさん}計算を ^{しまし}しょう。

- ① 5×2 ② 2×3
 ③ 3×3 ④ 4×5
 ⑤ 3×6 ⑥ 2×4
 ⑦ 5×8 ⑧ 4×7
 ⑨ 4×9 ⑩ 2×6
 ⑪ 5×6 ⑫ 3×8

- ③ 1つの ^{ふくろ}ふくろに
 チョコレートが 4 ^ここ
 ずつ ^{はい}はいて ^{いま}いま
 す。
 8 ^{ふくろ}ふくろでは ^{なん}何 ^ここ
 に ^{なり}なりますか。



(しき)

(答え) こ

- ④ ^{たか}高さ 5 ^{mm}mm の ^{いた}いたを 7 ^{まい}まい つむと、^{ぜん}ぜん
 ぶで ^{たか}高さは ^{なん}何 ^{mm}mm に ^{なり}なりますか。

(しき)

(答え) mm

- ⑤ ^{がみ}おり紙を 9 ^{まい}まい ^か買います。
 1 ^{まい}まい 2 ^円円の ^{がみ}おり紙を ^{かう}買うと、^{なん}何 ^円円に
 になりますか。

(しき)

(答え) 円

(かけ算 (1)) の 学しゅうを ふりかえって

★ この 学しゅうは たのしかったですか。

(はい まあまあ すこし いいえ)

◆ この 学しゅうは よく わかりましたか。

(はい まあまあ すこし いいえ)

● じゅぎょうの 中で、おもしろかった ことや わかった ことなどの
かんそうを かきましょう。