

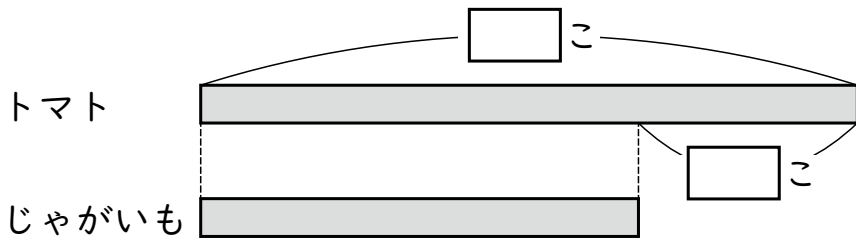
2年

＊ ちがいをみて

く	名
み	まえ

① トマトが 18 こ あります。
 トマトは、じゃがいもより 6 こ ^{おお}多い そうです。
 じゃがいもは ^{なん}何こ ありますか。


① 下の ^ず図の □ に ^{かず}あてはまる 数を かきましょう。



② ^{こた}答えを もとめましょう。
 (しき)

(答え) こ

② みきさんの もって いる テープの ^{なが}長さは 90cm です。
 みきさんの テープは、あかねさんの テープより 25cm 長いそうです。
 あかねさんの テープの 長さは 何cm ですか。
 図を ^{かんが}かいて 考えましょう。

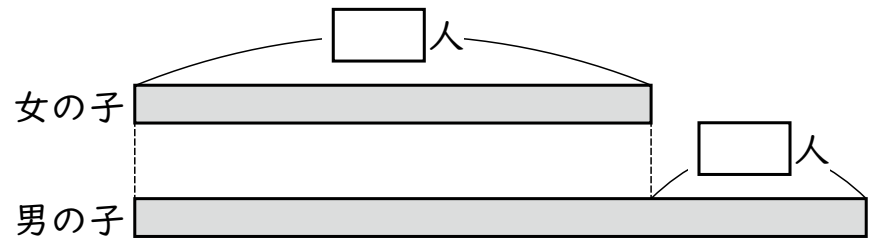


(しき)

(答え) cm

③ ^{こうえん}公園に、女の子が 23 人 います。
 女の子は、男の子より 11 人 ^{すく}少ない そうです。
 男の子は 何人 いますか。


① 下の ^ず図の □ に ^{かず}あてはまる 数を かきましょう。



② 答えを もとめましょう。
 (しき)

(答え) 人

④ けしゴムは 90 円です。
 けしゴムは、ノートより 20 円 やすい そうです。
 ノートは 何円 ですか。
 図を ^{かんが}かいて 考えましょう。



(しき)

(答え) 円

(ちがいをみて) の 学しゅうを ふりかえって

★ この 学しゅうは たのしかったですか。

(はい まあまあ すこし いいえ)

◆ この 学しゅうは よく わかりましたか。

(はい まあまあ すこし いいえ)

● じゅぎょうの 中で、おもしろかった ことや わかった ことなどの かんそうを かきましょう。