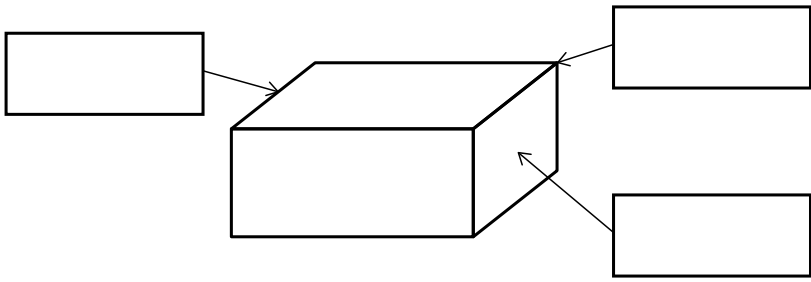


2年

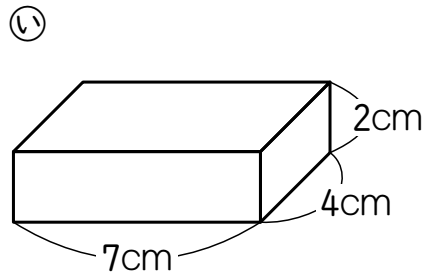
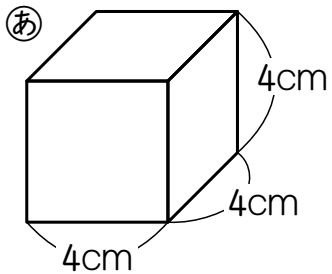
## 16. はこの 形

く		名	
み		ま	

① □ に あてはまる ことばを かきましょう。



② □ に あてはまる <sup>かず</sup>数や ことばを かきましょう。



① はこの <sup>かたち</sup>形には、<sup>めん</sup>面が □ つ、

<sup>へん</sup>辺が □ , <sup>ちゆうてん</sup>ちょう点が □ つ  
あります。

② ㉞の はこの 面は どれも □  
の 形を して います。また、


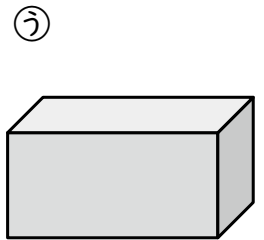
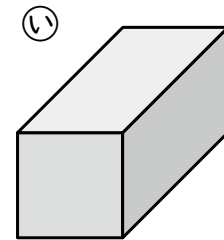
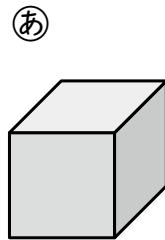
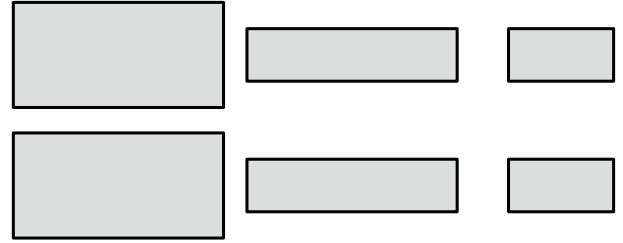
<sup>おな</sup>同じ <sup>なが</sup>長さの 辺が □ あります。

③ ㉟の はこの 面は どれも □  
の 形を して いて、

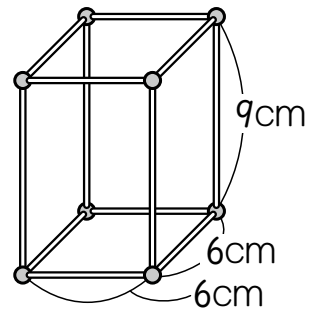
同じ 形の 面が □ つずつ あります。

また、同じ 長さの 辺が □ つずつ  
あります。

③ 下の ような <sup>かみ</sup>紙を テープで つないで  
はこを つくると、㉞~㉟の どの はこが  
できますか。



④ ひごと ねんど玉を  
つかって、右のよ  
うな はこの 形を つくり  
ます。



① ねんど玉は <sup>なん</sup>何こ いらいますか。

□ こ

② どんな 長さの ひごが 何本 いらいます  
か。

6cm の ひご ... □ 本

□ cm の ひご ... □ 本

( はこの 形 ) の 学しゅうを ふりかえって

★ この 学しゅうは たのしかったですか。

( はい まあまあ すこし いいえ )

◆ この 学しゅうは よく わかりましたか。

( はい まあまあ すこし いいえ )

● じゅぎょうの 中で、おもしろかった ことや わかった ことなどの  
かんそうを かきましょう。