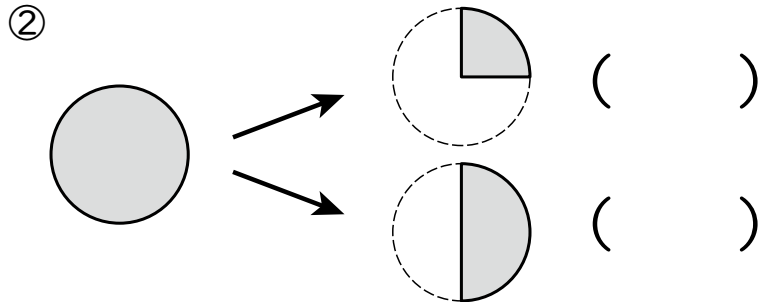
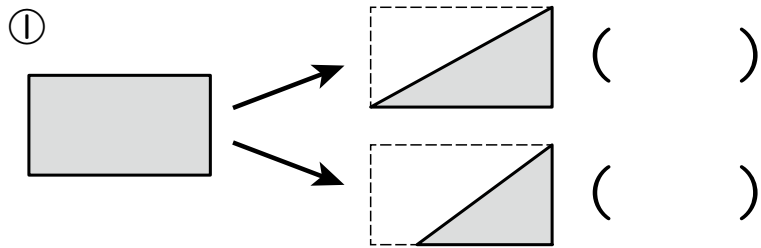


2年

## 17. 分数

く		名	
み		まえ	

- ① <sup>はんぶん</sup> 半分の大きさに なって いる ほうに ○ を つけましょう。



- ② □ に あてはまる <sup>かず</sup> 数や ことばを かき ましょう。

- ① もとの 大きさを <sup>おな</sup> 同じ 大きさに

□ つに 分けた 1 つ分を, もとの

大きさの 二分の一と いい, □

と かきます。

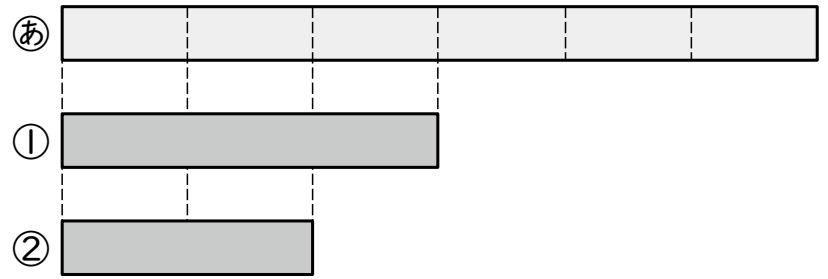
- ②  $\frac{1}{2}$  や  $\frac{1}{4}$  の ような 数を □

と います。


- ③  $\frac{1}{3}$  の □ つ分は もとの

大きさに なります。

- ③ ② の  $\frac{1}{2}$  の 大きさに なって いるのは どれですか。






- ④ 1 はこに 24 こ入りの おかしが あります。図を 見て, □ に あてはまる 数を かき ましょう。



- ① 24 この  $\frac{1}{2}$  の 大きさは □ こ。

- ② 24 この  $\frac{1}{3}$  の 大きさは □ こ。

- ⑤ つぎの テープの  $\frac{1}{4}$  の 大きさに <sup>いろ</sup> 色を ぬり ましょう。



## ( 分数 ) の 学しゅうを ふりかえって

- ★ この 学しゅうは たのしかったですか。

( はい まあまあ すこし いいえ )

- ◆ この 学しゅうは よく わかりましたか。

( はい まあまあ すこし いいえ )

- じゅぎょうの 中で, おもしろかった ことや わかった ことなどの かんそうを かき ましょう。