

◆それぞれの問題について、マークに○をつけましょう。

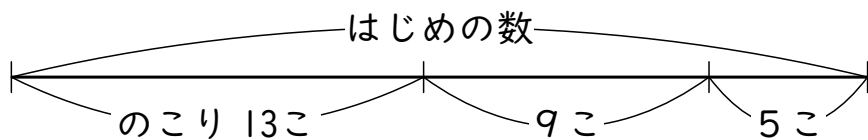
😊自信あり 😊まあまあ自信あり 😞少し自信なし 😞自信なし

3年

＊ かくれた数はいくつ

クラス	名
	組 前

① あめを買いました。弟に5こ、妹に9こあげたら、のこりは13こになりました。
はじめ、あめは何こありましたか。
※ 下の図を見て考えましょう。




(式)

答え こ

😊 😊 😞 😞

② 色紙が何まいかありました。6まいずつ2人の子どもにくばったら、のこりは9まいになりました。
はじめ、色紙は何まいありましたか。
※ 図をかいて考えましょう。




(式)

答え まい

😊 😊 😞 😞

③ 30円のラムネと10円のガムを買いました。そのあとでカステラも買ったので、全部で90円になりました。
カステラは何円でしたか。
※ 図をかいて考えましょう。




(式)

答え 円

😊 😊 😞 😞

④ 花だんに、赤いチューリップが12本、黄色いチューリップが5本さいていました。今日、また何本かさいたので、チューリップは全部で28本さいています。
今日、何本さきましたか。
※ 図をかいて考えましょう。



(式)

答え 本

😊 😊 😞 😞

(かくれた数はいくつ) の学習をふりかえって

★ この学習は楽しかったですか。

(はい まあまあ 少し いいえ)

● じゅぎょうの中で、おもしろかったことやわかったことなどのかんそうをかきましょう。

◆ この学習はよくわかりましたか。

(はい まあまあ 少し いいえ)