

◆それぞれの問題について、マークに○をつけましょう。

😊自信あり 😊まあまあ自信あり 😞少し自信なし 😞自信なし

3年


4. 時こくと時間

クラス	名
	組 前

① □にあてはまる数をかきましょう。


- ① 2分 = □ びょう秒
 - ② 80秒 = □ 分 □ 秒
 - ③ 1分40秒 = □ 秒
 - ④ 1時間50分 = □ 分
 - ⑤ 90分 = □ 時間 □ 分
- 😊 😊 😞 😞

② つぎ 次の時間や時こくを答えましょう。



① 午前8時35分から
午前9時10分までの時間

□



② 午前9時25分より
40分前の時こく

□

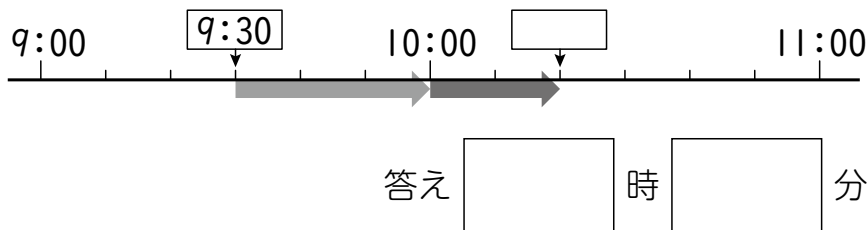
😊 😊 😞 😞

③ □にあてはまる時間のたんいをかきましょう。

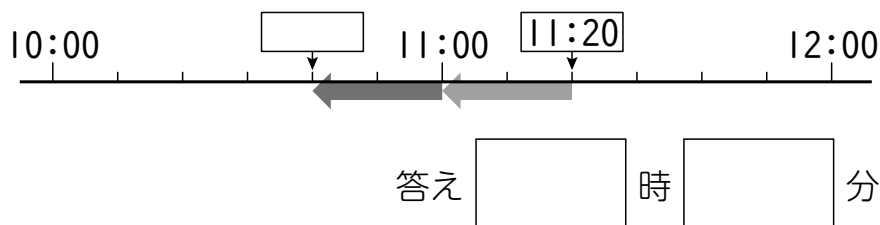
- ① 100mを走るのにかかる時間 …24 □
 - ② 国語のじゅぎょうの時間 …45 □
 - ③ あつこさんの1日のすいみん時間 …8 □
- 😊 😊 😞 😞

④ 次の時こくをかきましょう。

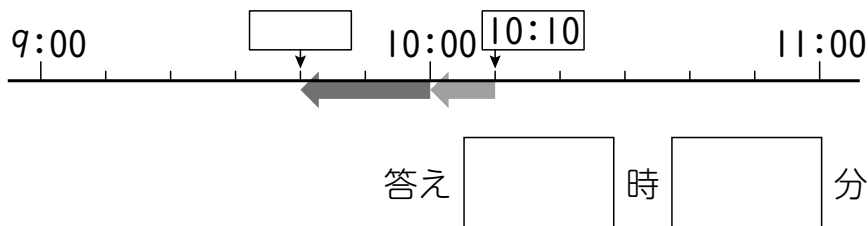
- ① 9時30分に学校を出て、50分歩いて公園に着きました。
公園に着いた時こくは何時何分ですか。



- ② としょかん 図書館を出て40分歩き、11時20分に家に着きました。
図書館を出た時こくは何時何分ですか。



- ③ 学校からえき駅まで30分かかります。
10時10分に駅に着くには、学校を何時何分に出るとよいですか。



- ⑤ こままわしをしました。けんたさんは65秒、さやかさんは1分10秒まわせました。
どちらが何秒長くまわせましたか。

(式)

答え □ さんが □ 秒長い。

😊 😊 😞 😞

(時こくと時間) の学習をふりかえって

★ この学習は楽しかったですか。

(はい まあまあ 少し いいえ)

● じゅぎょうの中で、おもしろかったことやわかったことなどのかんそうをかきましょう。

◆ この学習はよくわかりましたか。

(はい まあまあ 少し いいえ)