

◆それぞれの問題について、マークに○をつけましょう。

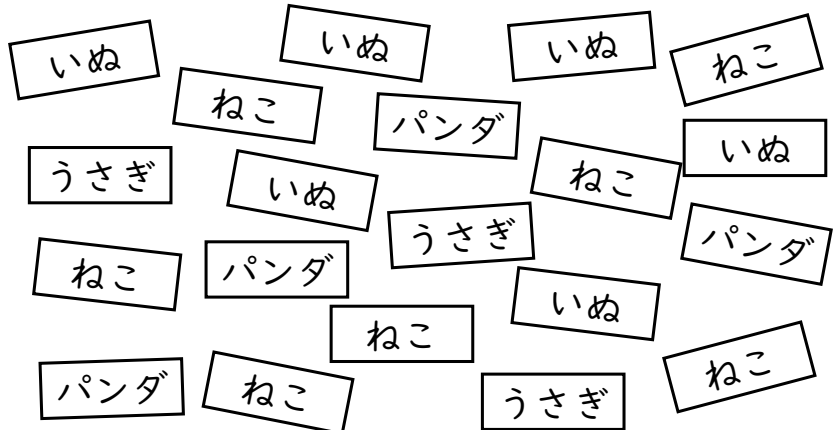
😊自信あり 😊まあまあ自信あり 😞少し自信なし 😞自信なし

3年

6. 表とグラフ

クラス	名
	組 前

① 子ども会で、3年生の20人が、いぬ、ねこ、うさぎ、パンダの中から好きな動物をえらび、1人が1つずつかきました。



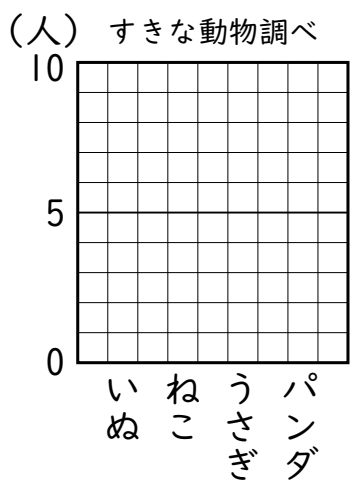
① 下の表に正の字をかいて、整理しましょう。

いぬ	
ねこ	
うさぎ	
パンダ	

② 下の表に数字をかいて、整理しましょう。

動物	人数(人)
いぬ	
ねこ	
うさぎ	
パンダ	
合計	

③ ぼうグラフにあらわしましょう。



④ すきな人がいちばん多い動物は何ですか。

😊 😊 😞 😞

② 次の表は、1組と2組の好きな食べ物を調べたものです。

すきな食べ物調べ(1組)

しゅるい	人数(人)
カレー	15
ラーメン	11
すし	2
からあげ	7
合計	35

すきな食べ物調べ(2組)

しゅるい	人数(人)
カレー	18
ラーメン	6
すし	1
からあげ	9
合計	34

下の表をかんせいさせましょう。

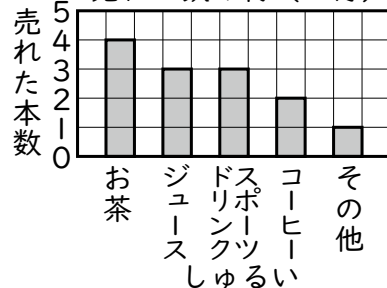
すきな食べ物調べ

しゅるい	1組	2組	合計
カレー			
ラーメン			
すし			
からあげ			
合計			

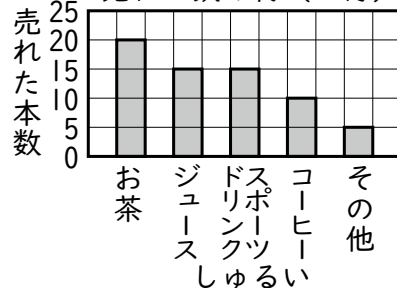
😊 😊 😞 😞

③ 次の2つのぼうグラフは、4月と8月に売れた飲み物のしゅるいとその本数を表したものです。

売れた飲み物(4月)



売れた飲み物(8月)



さやかさんは、「4月に売れた飲み物の本数の合計は、8月に売れた本数の合計と同じ数になっています。」とっています。

さやかさんのいっていることは正しいですか。「正しい」か「正しくない」かのどちらかで答えましょう。

😊 😊 😞 😞

(表とグラフ) の学習をふりかえって

★ この学習は楽しかったですか。

(はい まあまあ 少し いいえ)

● じゅぎょうの中で、おもしろかったことやわかったことなどのかんそうをかきましょう。

◆ この学習はよくわかりましたか。

(はい まあまあ 少し いいえ)