

◆それぞれの問題について、マークに○をつけましょう。

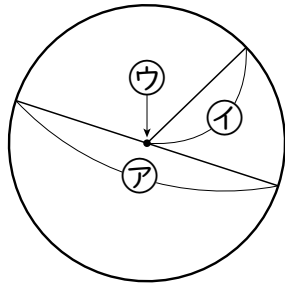
😊自信あり 😊まあまあ自信あり 😞少し自信なし 😞自信なし

**3年**

**11. 円と球**

クラス	名
	組 前

① コンパスで、右のよ  
うな円をかきました。



① ア, イ, ウを、そ  
れぞれ円の何とい  
いますか。

ア  イ  ウ

② イの長さが5cmのとき、アの長さは何cmで  
すか。

cm

😊 😊 😞 😞

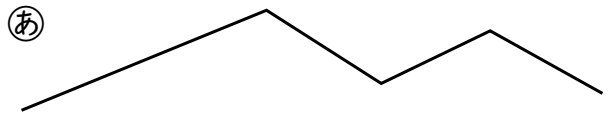
② ・を中心として、次の円をかきましょう。

- ① 半径3cmの円      ② 直径4cmの円



😊 😊 😞 😞

③ 下のあ, いのどちらが長い  
ですか。  
コンパスで、長さを写しと  
ってくらべましょう。




のほうが長い。

😊 😊 😞 😞

④ □にあてはまること  
ばをかきましょう。

① 球をどこで切っ  
ても、切り口の形は

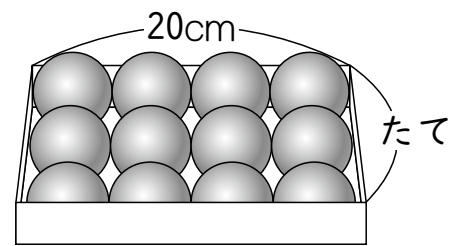
になります。



② 球の切り口の形がいちばん大きくなるのは、  
球の  を通るように切ったときです。

😊 😊 😞 😞

⑤ 下の図のように、箱にぴったりボールがはい  
ているとき、箱のたての長さは何cmですか。



cm

😊 😊 😞 😞

( 円と球 ) の学習をふりかえって

★ この学習は楽しかったですか。

( はい まあまあ 少し いいえ )

● じゅぎょうの中で、おもしろかったことやわかったことなどのかんそうを  
かきましょう。

◆ この学習はよくわかりましたか。

( はい まあまあ 少し いいえ )