

◆それぞれの問題について、マークに○をつけましょう。

😊 自信あり 😊 まあまあ自信あり 😞 少し自信なし 😞 自信なし

**3年**

# 12. 何倍でしょう

クラス	名
	組 前

- ① ゴムで動く車の走った長さをくらべました。青は3m、赤は6m走りました。青の走った長さの何倍が、赤の走った長さですか。下の図を見て、考えましょう。

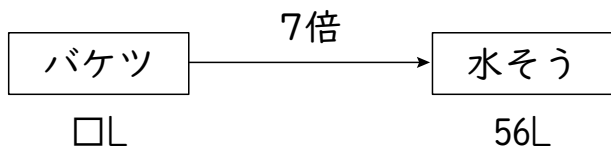


3mの何倍かが6mだから、 $3 \times \square = 6$ の□にあてはまる数をもとめることになります。  
(式)

答え  倍

😊 😊 😞 😞

- ② バケツで水を運んで水そうをいっぱいにします。7回運んで、56Lはいる水そうがいっぱいになりました。バケツには、何Lの水がはいりますか。



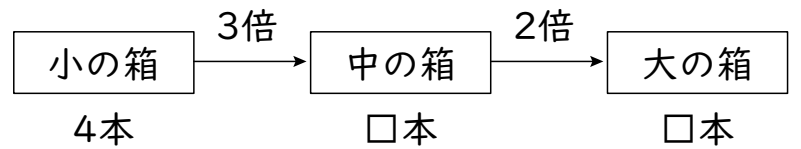
(式)

答え  L

😊 😊 😞 😞

- ③ 大、中、小の3しゅるいの箱があります。小の箱にはえん筆が4本はいります。中の箱には小の箱の3倍、大の箱には中の箱の2倍はいります。大の箱にはえん筆が何本はいりますか。2とおりの考え方でとめましょう。

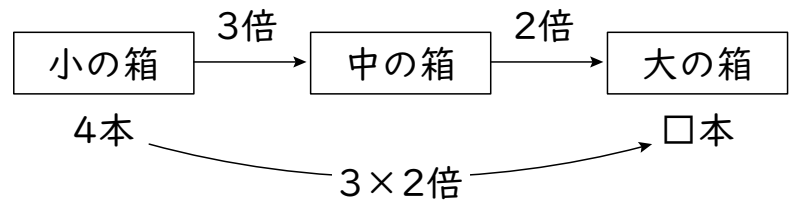
- ① 下の図を見て、考えましょう。



(式)

答え  本

- ② 下の図を見て、考えましょう。



(式)

答え  本

😊 😊 😞 😞

## ( 何倍でしょう ) の学習をふりかえって

★ この学習は楽しかったですか。

( はい まあまあ 少し いいえ )

● じゅぎょうの中で、おもしろかったことやわかったことなどのかんそうをかきましょう。

◆ この学習はよくわかりましたか。

( はい まあまあ 少し いいえ )