

◆それぞれの問題について、マークに○をつけましょう。

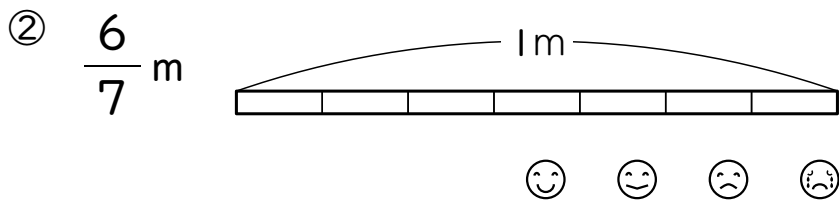
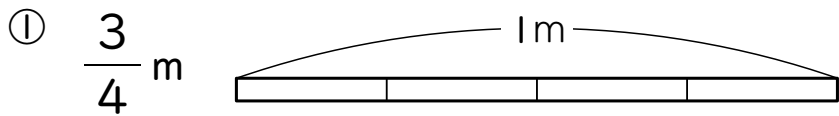
😊自信あり 😊まあまあ自信あり 😞少し自信なし 😞自信なし

3年

16. 分数

クラス	名
	組前

① 次の長さにあたるところをぬりましょう。



② □にあてはまる数をかきましよう。

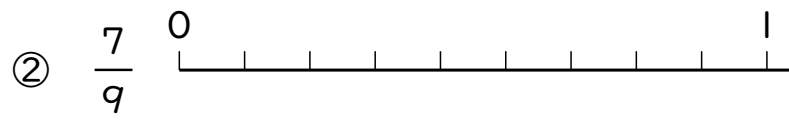
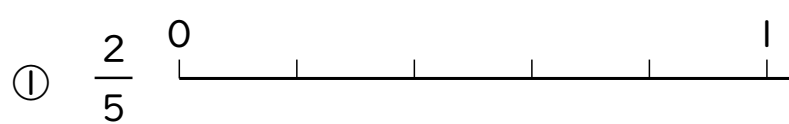
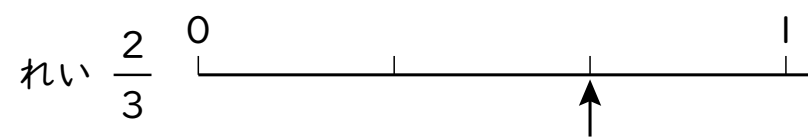
① 1Lを5等分した2こ分のかさは、
□ Lです。

② $\frac{5}{6}$ は、□ を5こ集めた数です。

③ $\frac{1}{4}$ を□ こ集めると1になります。

😊 😊 😞 😞

③ 次の分数を数直線の上に、れいのように↑で表しましょう。



④ 次の数の大小をくらべて、□に等号か不等号をかきましよう。

① $\frac{4}{8}$ □ $\frac{2}{8}$ ② $\frac{8}{9}$ □ 1

③ $\frac{7}{7}$ □ 1

😊 😊 😞 😞

⑤ 次の計算をしましよう。

① $\frac{2}{7} + \frac{3}{7}$ ② $\frac{3}{5} + \frac{1}{5}$

③ $\frac{2}{3} + \frac{1}{3}$ ④ $\frac{7}{8} - \frac{4}{8}$

⑤ $\frac{3}{6} - \frac{2}{6}$ ⑥ $1 - \frac{1}{2}$

😊 😊 😞 😞

⑥ ジュース $\frac{2}{6}$ L と $\frac{3}{6}$ L をあわせると何Lですか。
(式)

答え □ L

😊 😊 😞 😞

⑦ 水が1Lあります。 $\frac{2}{5}$ L 飲むと、のこりは何Lですか。
(式)

答え □ L

😊 😊 😞 😞

(分数) の学習をふりかえって

★ この学習は楽しかったですか。
(はい まあまあ 少し いいえ)

◆ この学習はよくわかりましたか。
(はい まあまあ 少し いいえ)

● じゅぎょうの中で、おもしろかったことやわかったことなどのかんそうをかきましよう。