

◆各問題について、自分で自信があるかないか、マークに○をつけましょう。

😊自信あり 😊まあまあ自信あり 😞少し自信なし 😞自信なし

4年

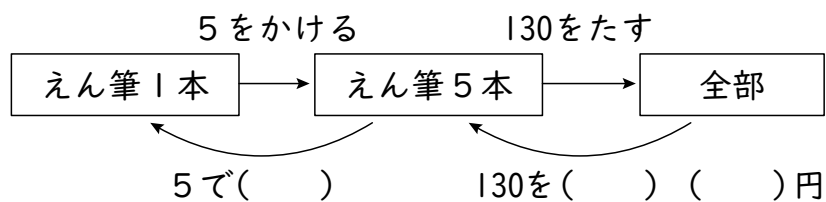
＊ もとの数はいくつ

クラス	名
	組前

① 文ぼう具店で同じねだんのえん筆を5本買い、そのあとスーパーに行って130円のパンを1つ買いました。代金は、全部で530円でした。

えん筆1本のねだんは何円ですか。

① 下の図に整理しました。()の中にあてはまることばや数をかきましょう。



② えん筆5本は何円ですか。

(式)

答え ()

③ えん筆1本は何円ですか。

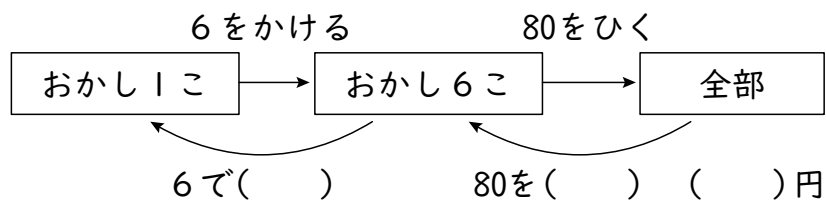
(式)

答え ()

😊 😊 😞 😞

② さやかさんは、おかしを6こ買いました。80円安くしてもらって、700円はらいました。

おかしは、1こ何円のねだんがっていましたか。



(式)

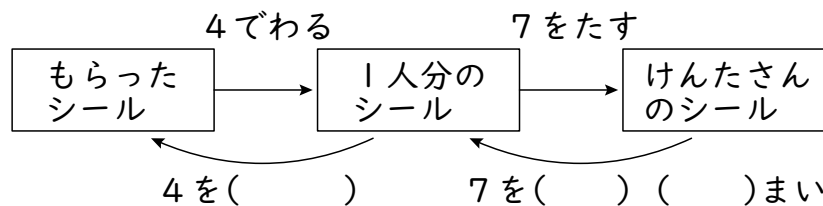
答え ()

😊 😊 😞 😞

③ けんたさんたちは、お兄さんからもらったシールを4人で同じ数ずつに分けました。そのあと、けんたさんは、弟から7まいもらったので、けんたさんのシールの数は13まいになりました。

お兄さんからもらったシールは、全部で何まいありましたか。

① 下の図に整理しました。()の中にあてはまることばや数をかきましょう。



② 1人分のシールの数は何まいですか。

(式)

答え ()

③ お兄さんからもらったシールの数は何まいですか。

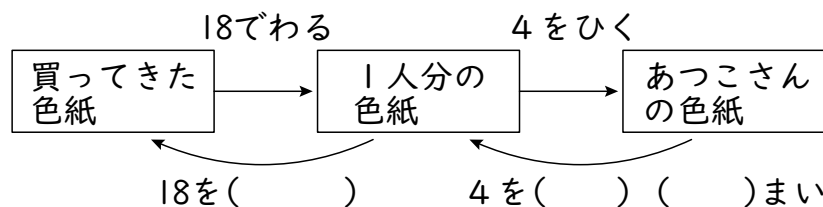
(式)

答え ()

😊 😊 😞 😞

④ あつこさんたちは、買ってきた色紙を18人で同じ数ずつに分けました。あつこさんは、そのうち4まい使ったので、残りは6まいになりました。

買ってきた色紙は、全部で何まいありましたか。



(式)

答え ()

😊 😊 😞 😞

(もとの数はいくつ) の学習をふりかえって

★ この学習は楽しかったですか。

(はい まあまあ 少し いいえ)

● 感想を自由にかきましょう。(じゅぎょうの中で、おもしろかったことや気づいたことなど)

◆ この学習はよくわかりましたか。

(はい まあまあ 少し いいえ)