

◆各問題について、自分で自信があるかないか、マークに○をつけましょう。



😊 自信あり    😊 まあまあ自信あり    😞 少し自信なし    😞 自信なし

**4年**

**＊表を使って考えよう**

クラス	名
	組 前

① 1組の28人と、2組の30人で、遠足に行きます。おやつで食べたいお菓子のアンケートをとると、下のよう結果になりました。



チョコレートを選んだ人…40人  
クッキーを選んだ人………18人

おやつで食べたいお菓子調べ(人)

おかし	チョコレート	クッキー	合計
組			
1組			28
2組			30
合計	40	18	58

① 1組でチョコレートを選んだ人は、19人でした。2組でチョコレートを選んだ人は、何人ですか。

(式) 答え ( )


② 1組、2組でクッキーを選んだ人は、それぞれ何人ですか。

1組 ( )

2組 ( )

😊 😊 😞 😞

② さやかさんのクラス29人に、運動会でのべんとうと飲み物の注文をきくと、下のよう結果になりました。



サンドイッチを選んだ人…16人  
ジュースを選んだ人………9人  
サンドイッチとジュースを選んだ人………5人

① 下の表に整理しましょう。

サンドイッチ、ジュースを選んだ人調べ(人)

		サンドイッチ		合計
		選んだ	選んでいない	
ジュース	選んだ	5		9
	選んでいない			
合計		16		29

② ジュースを選んでサンドイッチを選んでいない人は、何人ですか。

( )

③ サンドイッチを選んでジュースを選んでいない人は、何人ですか。

( )

④ サンドイッチもジュースも選んでいない人は、何人ですか。

( )

😊 😊 😞 😞

**( 表を使って考えよう ) の学習をふりかえって**

★ この学習は楽しかったですか。

( はい まあまあ 少し いいえ )

● 感想を自由にかきましょう。(じゅぎょうの中で、おもしろかったことや気づいたことなど)

◆ この学習はよくわかりましたか。

( はい まあまあ 少し いいえ )