


たしかめテスト

4 いろいろな かたち

くみ	なまえ	てんすう


1 よく にた かたちを せんで おすびましょう。



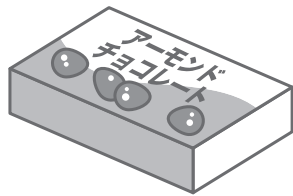
•



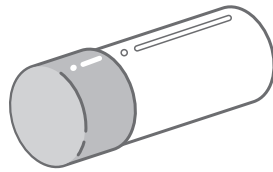
•



•



•




•



•

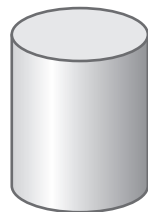
2 かたちと ことばを せんで おすびましょう。



•



•




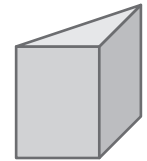
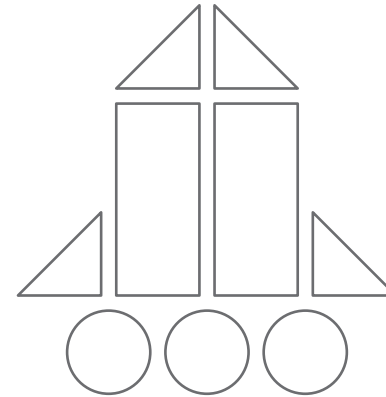
•

つみやすい


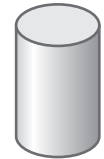
どの おきにも  
ころがりやすい

つんだり ころがしたり  
できる


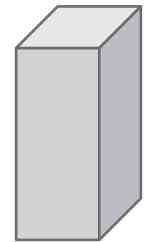
3 かたちを うつして したの えを かきました。  
どの つみきを なんかい つかったか かきましょう。



かい




かい



かい

4 つみきを つかって、 すきな えを かきましょう。




たしかめテスト


5 ふえたり へったり

くみ	なまえ	てんすう

1 えをみて、( )のことに ○をつけましょう。



① 3にのると、なかのひとのかずは ( ふえる へる )。



② 4にのりると、なかのひとのかずは ( ふえる へる )。

とろっこに くまが 2ひきの  
のって いました。


ばいばい。

のせてよ。

3ひき のりました。

4ひき おりました。

2 うえの えをみて、とろっこに のって いる くまの かずだけ ○をかきましょう。



[れい]

○ ○



①



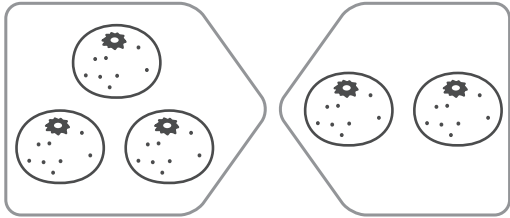
②

たしかめテスト

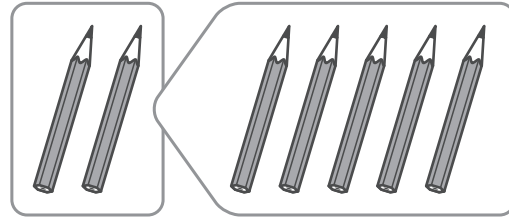
6 たしざん (1)

くみ	なまえ	てんすう

1 にはいる かずを かきましょう。




あわせて こ



ふえると ほん

2 あわせて なんまいですか。



(しき)  +  =

こたえ まい

3 たしざんを しましょう。

①  $3+6=$

②  $1+5=$


③  $6+2=$

④  $2+8=$

⑤  $3+4=$

⑥  $4+5=$

4 4にんで あそんで いました。  
そこへ 3にん きました。  
みんなで なんにんに なりましたか。



(しき)  =

こたえ にん

5  $6+4=10$ の しきに なる おはなしを つくりましょう。


6にんが としょしつで えほんを よんで いました。  
そこへ にん やって きました。  
 10にんに なりました。

たしかめテスト

7 ひきざん (1)

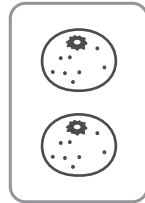

くみ	なまえ	てんすう

1 □にはいる かずを かきましょう。



4こ たべると、

のこりは □こ



りんごの ほうが □こ おおい

2 とりが 7わ います。

3わ とんで いくと、  
のこりは なんわに  
なりますか。



(しき) □ - □ = □

こたえ □わ

3 ひきざんを しましょう。

① 8-3=□

② 6-2=□

③ 7-5=□

④ 10-7=□

4 あかい えんぴつが 6ほん あります。

あおい えんぴつが 8ほん あります。

あおい えんぴつの ほうが なんほん おおいですか。

(しき) □ = □

こたえ □ほん

5 くじが 9ほん あります。

はずれは 5ほんです。

あたりは なんほん ですか。



(しき) □ = □

こたえ □ほん

6 4-3=1の しきに なる おはなしを つくりましょう。

はこの なかに あめが 4こ はいって います。

□こ □と、のこりは 1こに なりました。