


たしかめテスト

1 ひょうと グラフ

くみ	名まえ	てんすう

1 くだものが たくさん あります。



① くだものの 数を 下の ひょうに かきましょう。

くだものの 数

くだもの	みかん	りんご	いちご	もも	かき	くり
数(こ)						

② ●を つかって、下の グラフに かきましょう。

くだものの 数

みかん	りんご	いちご	もも	かき	くり

③ いちばん 数の 多い くだものは 何ですか。

④ ①の ひょうや ②の グラフを 見て、どんな ことが いえますか。

.....

.....

.....

2 いろいろな 形と あじの クッキーが たくさん あります。

□は バニラの あじで、■は ココアの あじです。



① クッキーの 数を 下の ひょうに せいりしましょう。

クッキーの 形しらべ

クッキーの 形	□	♡	☆
まい数(まい)			

クッキーの あじしらべ

クッキーの あじ	バニラ	ココア
まい数(まい)		

② ●をつかって、下の グラフに かきましょう。

クッキーの 形しらべ

□	♡	☆

クッキーの あじしらべ

バニラ	ココア

③ 正しいものを ○で かこみましょう。

いちばん 多い 形は (□ ・ ♡ ・ ☆) です。

あじは (バニラ ・ ココア) の ほうが 多いです。

たしかめテスト

2 時こくと 時間

くみ	名まえ	てんすう

1 に あてはまる 数を かきましょう。

① 1時間 = 分 ② 1日 = 時間

③ 午前は 時間, 午後は 時間です。

④ 1時間で 長い はりは 時計を 1しゅうします。

1日で 長い はりは 時計を しゅうします。

1日で みじかい はりは 時計を しゅうします。

2 いま 8時35分です。つぎの 時こくを いいましょう。

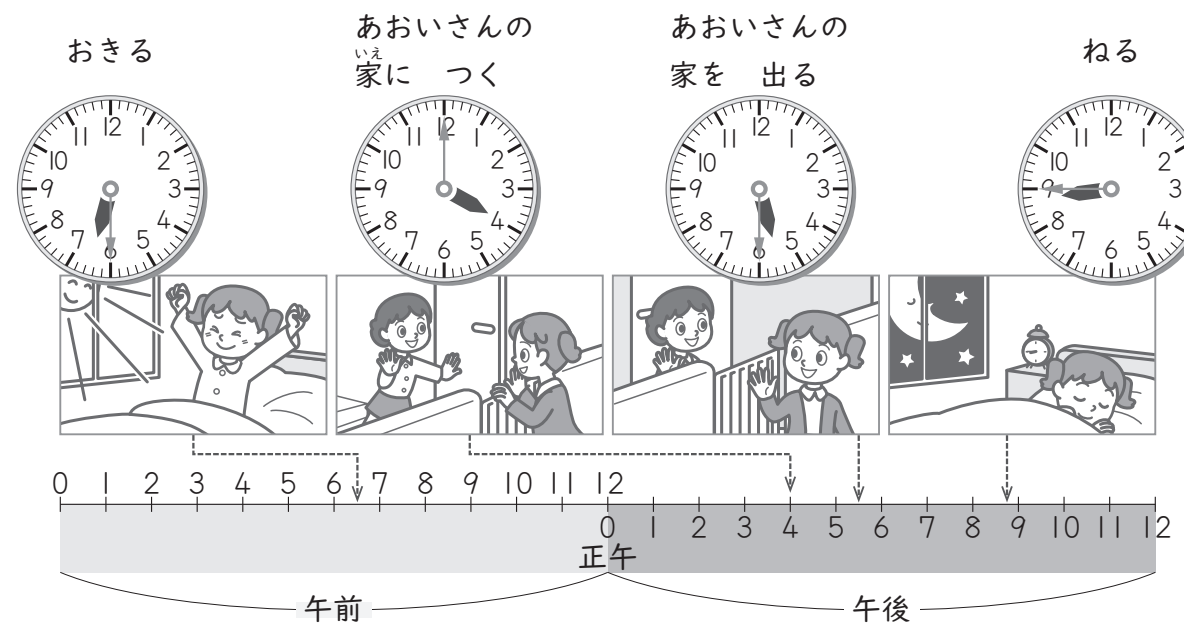
① 2時間あと

② 30分前

③ 30分あと



3 下の 絵は みさきさんの ある 日の ようすです。



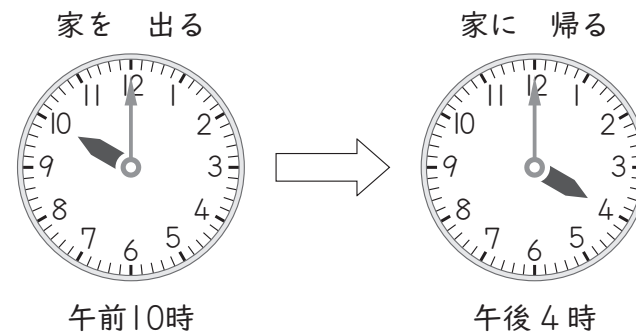
① みさきさんが おきる 時こくと ねる 時こくを, 午前か 午後をつけて かきましょう。

おきる 時こく

ねる 時こく

② みさきさんが あおいさんの 家に いた 時間は 何時間何分ですか。

4 家を出てから 家に 帰るまでの 時間は どれだけですか。



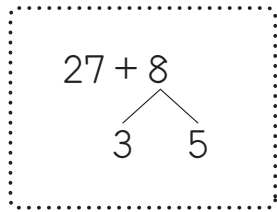
たしかめテスト

3 たし算と ひき算

くみ	名まえ	てんすう

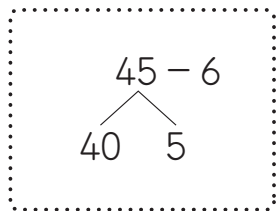
1 □に あてはまる 数を かきましょう。

① 27 + 8



27に □ を たして 30
30と □ で □

② 45 - 6



40から □ を ひいて 34
34と □ で □

2 つぎの 計算を しましょう。

① 37 + 3 = □

② 15 + 6 = □

③ 29 + 7 = □

④ 83 + 9 = □

⑤ 52 + 20 = □

⑥ 20 - 2 = □

⑦ 43 - 7 = □

⑧ 55 - 6 = □

⑨ 34 - 9 = □

⑩ 93 - 30 = □

3 えんぴつを 24本 もって いました。きょう 9本 もらいました。
えんぴつは 何本に なりましたか。
(しき)

答え □ 本

4 つばさんは 色紙を 8まい もって います。
みらいさんは 色紙を 22まい もっています。
ちがいは 何まい ですか。
(しき)

答え □ まい

5 □には 3つとも おなじ 数字が はいります。
あてはまる 数字を かきましょう。

72 - □ = □ □

6 しきが 15 + 7 に なる もんだいを つくりましょう。

.....

.....

.....

.....

.....

たしかめテスト

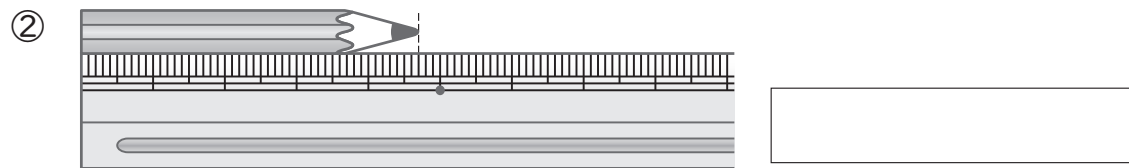
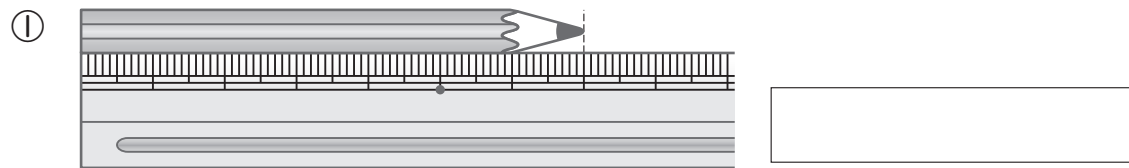
4 長さ

くみ	名まえ	てんすう

1 □ に あてはまる 数を かきましょう。

① $3\text{cm} = \square \text{mm}$ ② $52\text{mm} = \square \text{cm} \square \text{mm}$

2 つぎの えんぴつの 長さは どれだけですか。



3 つぎの 長さの 直線を かきましょう。



4 つぎの 計算を しましょう。

① $6\text{cm} + 2\text{cm}4\text{mm} = \square$

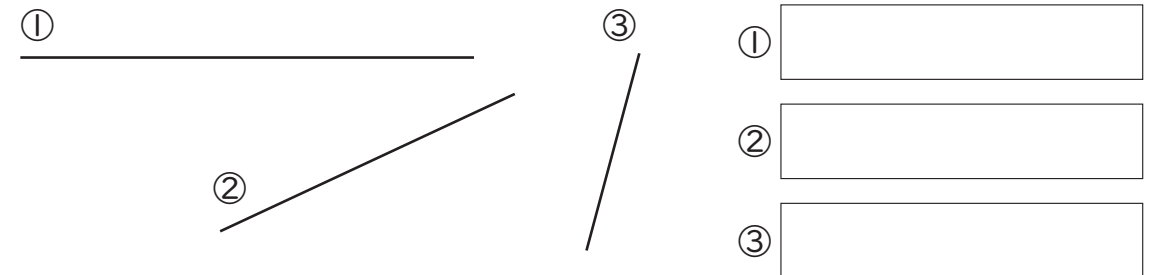
② $7\text{cm}2\text{mm} - 2\text{cm} = \square$

5 □ に あてはまる 長さの たんいを かきましょう。

① ボールペンの 長さ 14

② きょうかしよの あつさ 6

6 つぎの 直線の 長さを はかりましょう。



7 アの 点から 5cmの ところに たからものが うまって いるそうです。

たからものは イ~カの どこに ありますか。



たしかめテスト

5 たし算とひき算のひっ算(1)

くみ	名まえ	てんすう

1 つぎの計算をしましょう。

①
$$\begin{array}{r} 34 \\ +21 \\ \hline \end{array}$$

②
$$\begin{array}{r} 45 \\ +18 \\ \hline \end{array}$$

③
$$\begin{array}{r} 67 \\ -35 \\ \hline \end{array}$$

④
$$\begin{array}{r} 80 \\ -56 \\ \hline \end{array}$$

2 つぎの計算をひっ算でしましょう。

① $58+12$

② $7+38$

③ $60-43$

④ $44-9$

3 つぎの計算の答えが正しいときは○, まちがっているときは正しい答えをかきましょう。

①
$$\begin{array}{r} 24 \\ +52 \\ \hline 76 \end{array}$$

②
$$\begin{array}{r} 35 \\ +19 \\ \hline 44 \end{array}$$

③
$$\begin{array}{r} 65 \\ -34 \\ \hline 31 \end{array}$$

④
$$\begin{array}{r} 72 \\ -54 \\ \hline 22 \end{array}$$

4 つばささんが、計算のまちがいを下のようにせつめいしています。

①~③のどの計算のまちがいをせつめいしたものをえらんで線でむすびましょう。

①
$$\begin{array}{r} 34 \\ +17 \\ \hline 41 \\ \cdot \end{array}$$

②
$$\begin{array}{r} 34 \\ -24 \\ \hline 18 \\ \cdot \end{array}$$

③
$$\begin{array}{r} 34 \\ -15 \\ \hline 29 \\ \cdot \end{array}$$

一のくらの計算をまちがえています。一のくらは $4-4=0$ になります。

くり下がりをわすれています。十のくらは $2-1=1$ になります。

くり上がりをわすれています。十のくらは $1+3+1=5$ になります。

5 みらいさんは72まいのシールをもらっています。

友だちに24まいあげると、のこりは何まいになりますか。

(しき)

答え まい

6 みさきさんのクラスには29人、けんたさんのクラスには31人の子どもがいます。

どちらのクラスが何人多いですか。

(しき)

答え さんのクラスが 人多い