

たしかめテスト

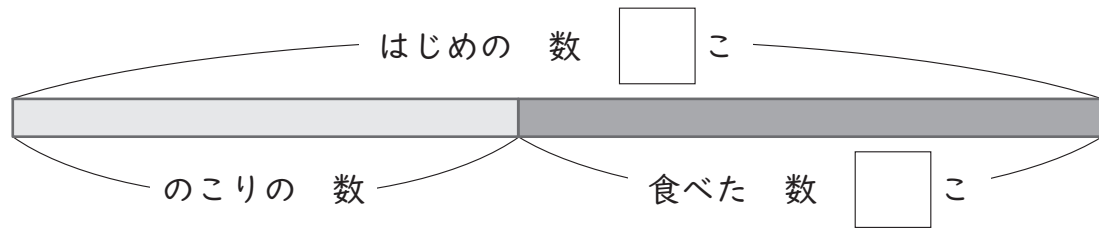
★ 図をつかって考えよう(1)

くみ	名まえ	てんすう

1 キャラメルが 28こ あります。

15こ 食べると 何こ のこりますか。

□に あてはまる 数を かいて 考えましょう。



(しき)

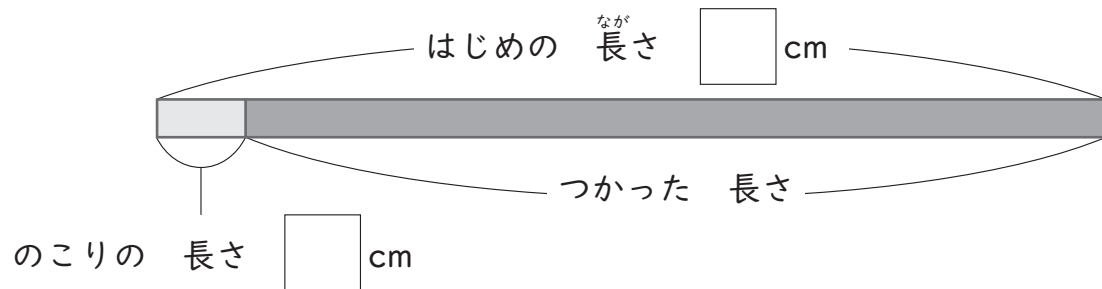
答え □こ

2 リボンが 75cm ありました。

かざりに つかったので、のこりが 7cmに なりました。

何cm つかいましたか。

□に あてはまる 数を かいて 考えましょう。



(しき)

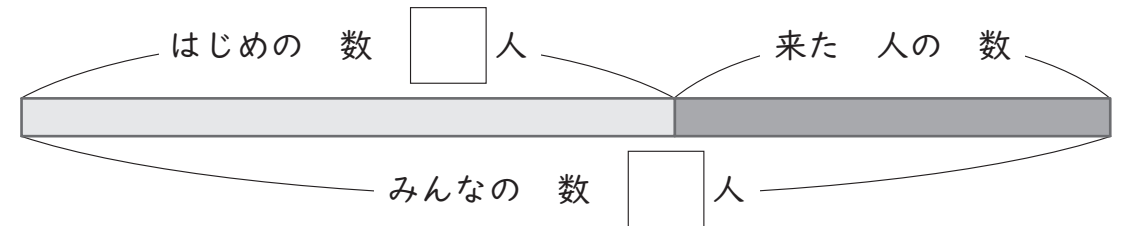
答え □cm

3 子どもが 18人 あそんで いました。

そこへ 友だちが 来たので、みんなで 30人に なりました。

何人 来ましたか。

□に あてはまる 数を かいて 考えましょう。



(しき)

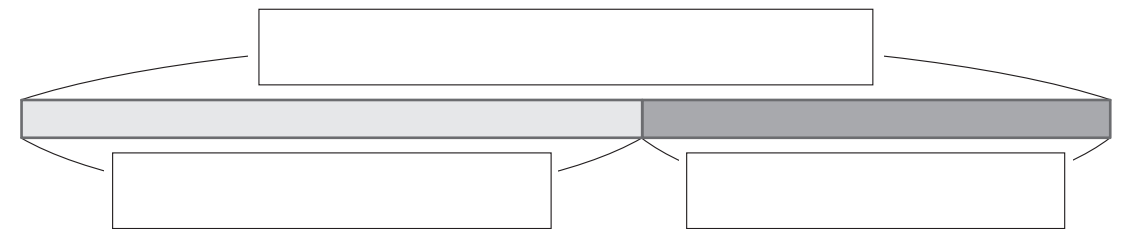
答え □人

4 おり紙を もって いました。

その うちの 9まいを 友だちに あげたので、のこりは 13まいに なりました。

はじめは 何まい ありましたか。

□に あてはまる ことばや 数を かいて 考えましょう。



(しき)

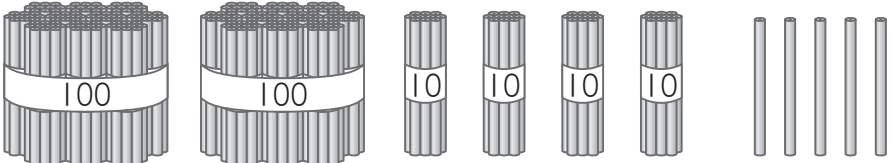
答え □まい

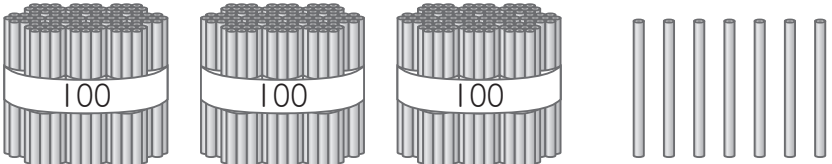
たしかめテスト

6 100をこえる数

くみ	名まえ	てんすう

1 つぎの数を数字でかきましょう。

① 

② 

2 つぎの数を数字でかきましょう。

① 六百七十九

② 三百八

③ 100を5こ、10を7こ、
1を4こあわせた数

④ 10を36こあつめた数

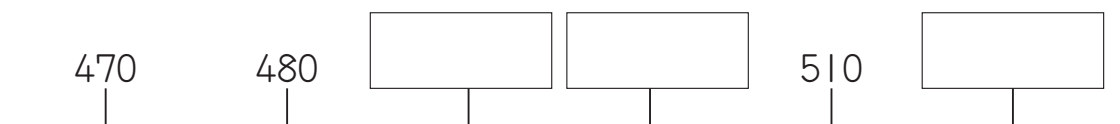
⑤ 1000より1小さい数

3 2つの数をくらべて、>か<をつかってかきましょう。

① 547 496

② 809 813

4 つぎの にあたる数をかきましょう。



5 つぎの計算をしましょう。

① $70+50=$

② $200+700=$

③ $800+200=$

④ $150-90=$

⑤ $700-400=$

⑥ $1000-300=$

6 まいさんとみほさんが3けたの数をかいたカードを持っています。

どちらの数が大きいかを かんが えて、せつめいしましょう。



さんのカードの数が
大きいです。

(せつめい)