

たしかめテスト

5 一万をこえる数

組	名前	点数

1 次の□にあてはまる数をかきましょう。

① 一万七千六百八十二を数字でかくと、□です。

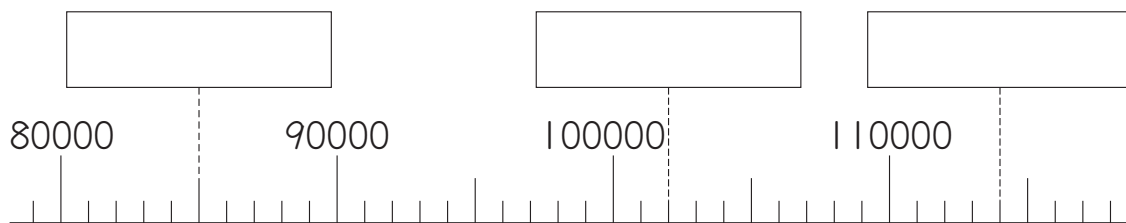
② 三十万五千を数字でかくと、□です。

③ 千万を6こ、百万を1こ、一万を4こ、千を9こあわせた数は□です。

④ 72000は、一万を□こと、千を□こあわせた数です。

⑤ 10000を208こ集めた数は□です。

2 次の□にあたる数をかきましょう。



3 次の□にあてはまる数や不等号をかきましょう。

① 2つの数をくらべて、>か<を使ってかきましょう。

ア 53990 □ 54010 イ 354000 □ 350000

② $38+43=81$, $73-28=45$ を使って、次の答えをもとめましょう。

ア $38000+43000=$ □ イ $73万-28万=$ □

③ ア, イの数について、10倍した数, 10でわった数, 100倍した数, 1000倍した数をかきましょう。

	10倍した数	10でわった数	100倍した数	1000倍した数
ア 90	□	□	□	□
イ 720	□	□	□	□

4 みらいさんは、 $370 \div 10$ の答えのもとめ方を、次のようにせつめいしました。

□にあてはまる数をかきましょう。

(みらいさんのせつめい)

370を□ $\times 10$ と考えます。

□ $\times 10$ を10でわると、答えは□です。

5 身のまわりにあるもので、10万をこえる数のものを1つかきましょう。

たしかめテスト

6 表とグラフ

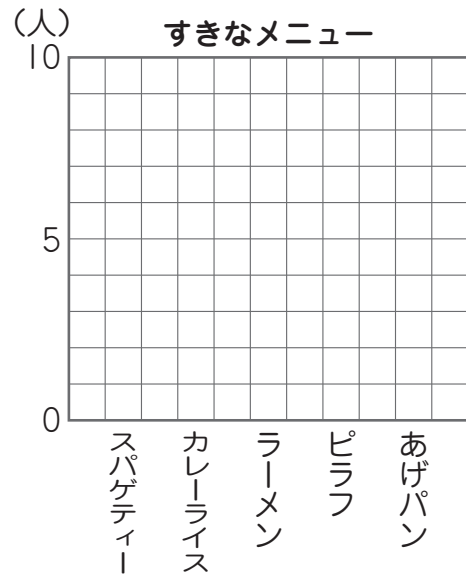
組	名前	点数

1 あおいさんのクラス全員が、すきなきゅう食のメニューを1人1つずつカードにかきました。

スパゲティー	カレーライス	ラーメン	スパゲティー	ピラフ	カレーライス
ピラフ	スパゲティー	あげパン	カレーライス	あげパン	ラーメン
スパゲティー	カレーライス	ラーメン	あげパン	スパゲティー	カレーライス
カレーライス	あげパン	ラーメン	カレーライス	カレーライス	ピラフ
スパゲティー	ラーメン	カレーライス	ラーメン	あげパン	スパゲティー

① 下の表に、すきなメニューの人数を、正の字をかいて整理しましょう。また、正の字を数字にかきなおしましょう。

すきなメニュー	人数	
	正の字	数字
スパゲティー		
カレーライス		
ラーメン		
ピラフ		
あげパン		



② すきなメニューの人数を、右のぼうグラフにかきましょう。

③ あおいさんのクラスで、いちばん人気のあるメニューは何ですか。

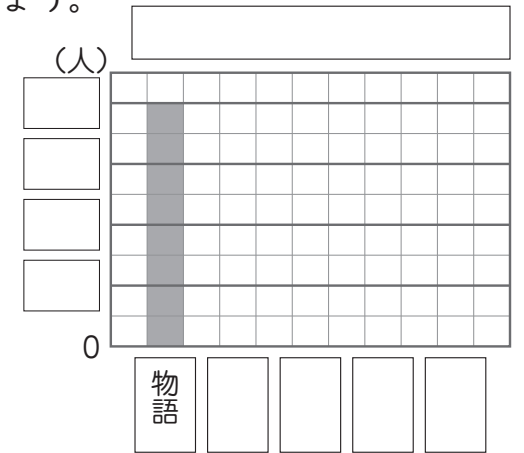
④ あおいさんのクラスは全部で何人ですか。

 人

2 下の表は、ひろとさんの学年がかりた本のしゅるいと人数を表しています。

① 表とぼうグラフをかんせいさせましょう。

かりた本のしゅるいと人数	
しゅるい	人数(人)
物語	40
科学	15
れきし	5
図かん	35
その他	10
合計	



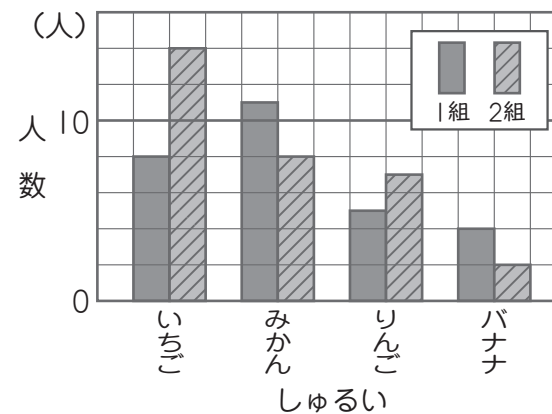
② 次のア～ウの中で、上のグラフからよみとれるものに○をつけましょう。

- ア かりられた本のしゅるいは、5しゅるいである。
- イ 図かんをかりた人は、物語をかりた人よりも5人少ない。
- ウ れきしをかりた人がいちばん少ない。

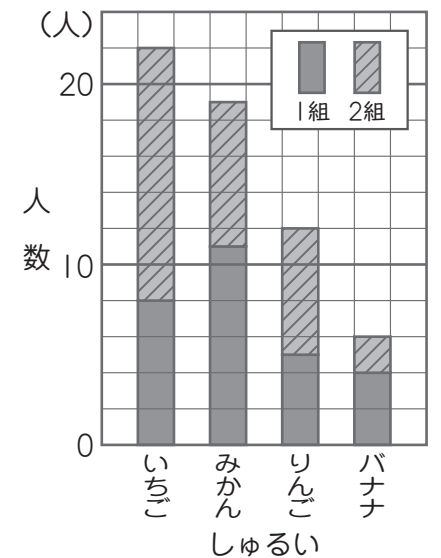
3 1組と2組ですきなくだものを調べました。

次のことがよみとりやすいのは、
あ、いのどちらのグラフですか。

あ すきなくだもの調べ (1組と2組)



い すきな遊び調べ (1組と2組)



① 1組と2組をあわせて、どのくだものが人気があるか。

② 1組と2組のすきなくだものちがいを。