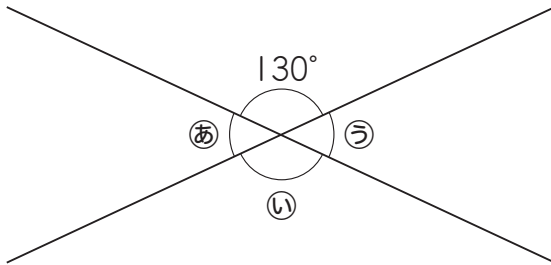


5 垂直・平行と四角形

組	名前

1 下のような2本の直線が交わってできる①, ②, ③の角度は, それぞれ何度ですか。

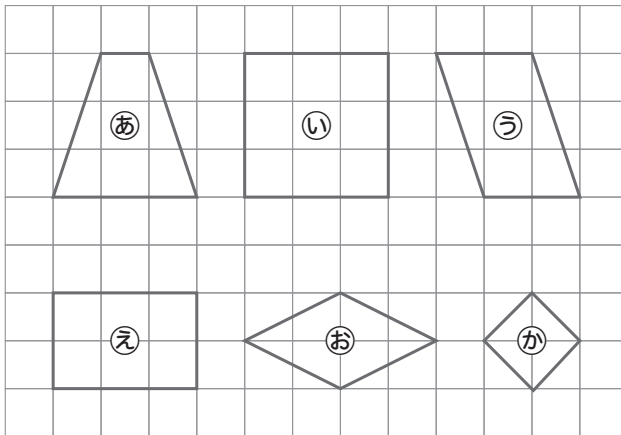


①

②

③


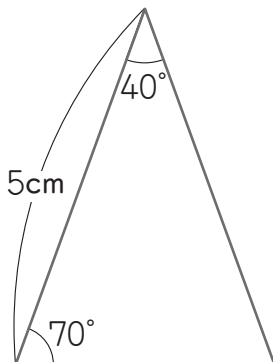
2 下の図のように方眼紙に①~④の図形がならんでいます。この中から, 長方形と正方形をすべて見つけましょう。



長方形

正方形

3 次のような三角形をかきましょう。



組	名 前

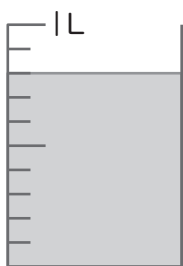
1 次の水のかさは何Lですか。

①



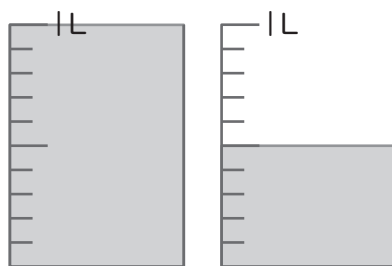
L

②



L

③



L

2 $1.4 + 0.5$ の計算をします。□にあてはまる数をかきましょう。

1.4は0.1が こ。

0.5は0.1が こ。

あわせて、 が こなので、

$1.4 + 0.5 =$

3 次の計算をしましょう。

① $0.8 + 0.5 =$

② $2.6 + 0.4 =$

③ $1.2 - 0.4 =$

④ $4 - 0.9 =$