

5 小数のわり算

組	名	前

1 計算をしましょう。

① $0.8 \div 4 =$

② $5.2 \div 10 =$

③ $3.6 \div 6 =$

④ $0.32 \div 8 =$

⑤ $0.09 \div 3 =$

⑥ $2 \div 4 =$

2 計算をしましょう。

① $6 \overline{)8.4}$

② $4 \overline{)2.08}$

③ $5 \overline{)0.435}$

④ $12 \overline{)27.6}$

⑤ $5 \overline{)3}$

⑥ $16 \overline{)60}$

3 3.5Lのジュースを、5人で等しく分けます。

1人分は何Lになりますか。

(式)

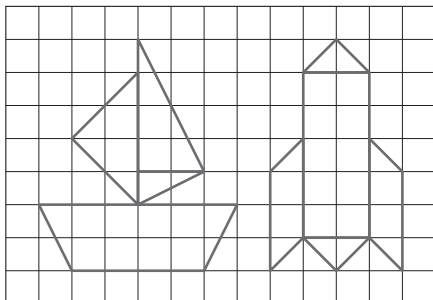
答え

L


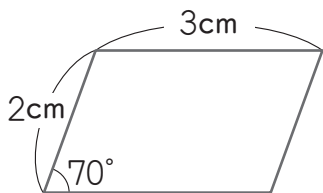
6 合同な図形

組	名	前

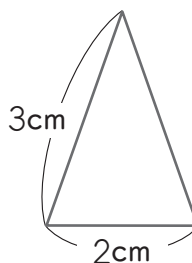
1 同じ図を ①
右にかきま
しょう。



2 平行四辺形



3 二等辺三角形

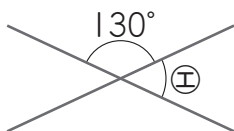


2 角の大きさは何度ですか。

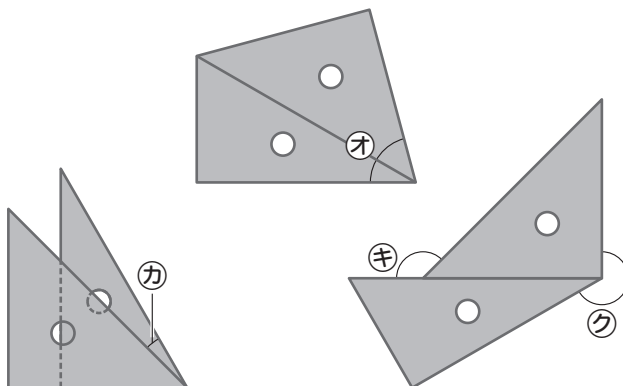
① 角ア, 角イ, 角ウ (分度器ではかりましょう。)



② 次のように
交わる2本の
直線の角エ



③ 三角じょうぎを使ってできる
角オ, 角カ, 角キ, 角ク



ア
イ
ウ
エ
オ
カ
キ
ク