

資料調べ 1 台風の動きと天気の変化

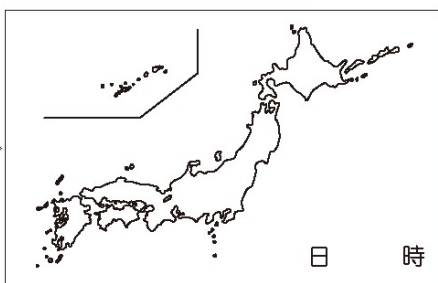
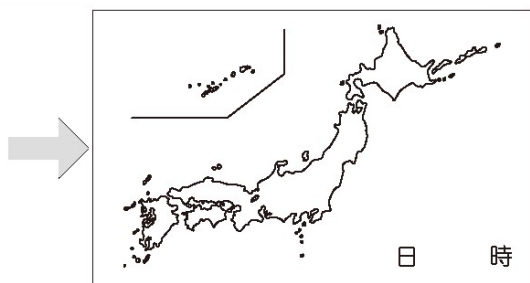
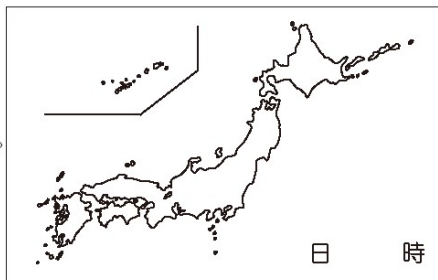
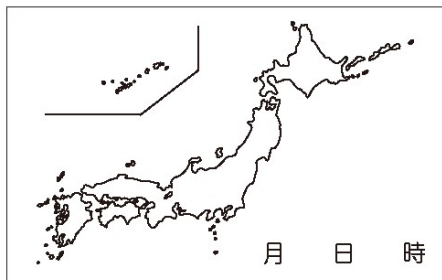
5年 組 番()

問題

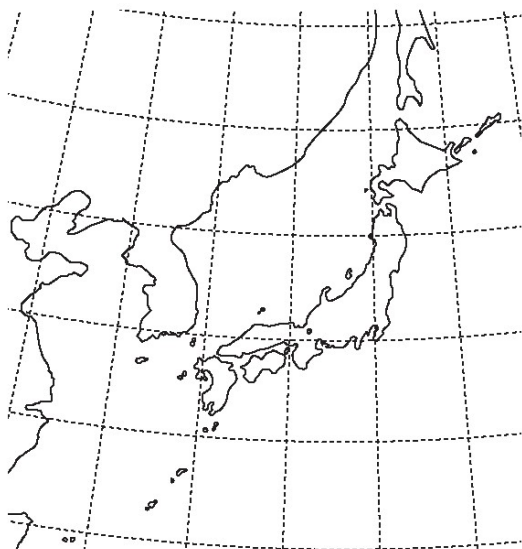
結果

台風 号の動き 年 月 日 ~ 月 日

天気の変化をかき入れましょう。(雨がふっている地いきに色をぬろう。)



台風の位置をかき入れましょう。(台風の中心の位置を×でかき入れ、線で結ぼう。日付と時刻もかいておこう。)



まとめ

.....

.....

.....

.....

.....

.....